


Namn:



Arbetsuppgifter

Addera med Holger

Namn: _____

1.



Tjena!
Kan du hjälpa mig att
räkna antalet bollar?
Skriv eller rita hur många
bollar det är.

$$2 \text{ bollar} + 1 \text{ boll} = \underline{\hspace{2cm}}$$


$$1 \text{ boll} + 3 \text{ bollar} = \underline{\hspace{2cm}}$$

$$3 \text{ bollar} + 2 \text{ bollar} = \underline{\hspace{2cm}}$$

$$1 \text{ boll} + 1 \text{ boll} = \underline{\hspace{2cm}}$$

Gåspennan

2.



Hej kompis!
Kan du hjälpa mig att lösa
uppgifterna som jag fick av Bea?

$0 + 1 = \underline{\quad}$

$1 + 2 = \underline{\quad}$

$2 + 3 = \underline{\quad}$

$3 + 0 = \underline{\quad}$

$4 + 1 = \underline{\quad}$

$5 + 0 = \underline{\quad}$

$0 + 4 = \underline{\quad}$

$1 + 4 = \underline{\quad}$

$2 + 2 = \underline{\quad}$

$3 + 2 = \underline{\quad}$

$4 + 0 = \underline{\quad}$

$0 + 2 = \underline{\quad}$

$1 + 3 = \underline{\quad}$

$1 + 4 = \underline{\quad}$

$0 + 3 = \underline{\quad}$

$1 + 1 = \underline{\quad}$

$1 + 0 = \underline{\quad}$

$0 + 5 = \underline{\quad}$

$2 + 0 = \underline{\quad}$

$2 + 2 = \underline{\quad}$

$2 + 1 = \underline{\quad}$

$3 + 1 = \underline{\quad}$

Gåspennan

3.



Hej igen!
När du har löst en uppgift ska det vara lika mycket på båda sidor av likhetstecknet. Kan du hjälpa mig att lösa uppgifterna?

$$\underline{\quad} + 5 = 5$$

$$\underline{\quad} + 1 = 5$$

$$3 + \underline{\quad} = 5$$

$$\underline{\quad} + 4 = 5$$

$$5 = 2 + \underline{\quad}$$

$$0 + \underline{\quad} = 5$$

$$0 + \underline{\quad} = 4$$

$$3 + \underline{\quad} = 4$$

$$\underline{\quad} + 2 = 4$$

$$1 + \underline{\quad} = 4$$

$$4 = 4 + \underline{\quad}$$

$$\underline{\quad} + 3 = 3$$

$$1 + \underline{\quad} = 3$$

$$2 + \underline{\quad} = 3$$

$$\underline{\quad} + 0 = 3$$

$$2 = \underline{\quad} + 2$$

$$0 + \underline{\quad} = 2$$

$$\underline{\quad} + 1 = 2$$

$$0 + \underline{\quad} = 1$$

$$1 + \underline{\quad} = 1$$

$$\underline{\quad} + \underline{\quad} = 0$$

Gåspennan

4.



Hej igen!
Jag har gjort några textuppgifter.
Testa att lösa uppgifterna.
Lycka till!

Fabian har 2 katter och Una har 1 katt. Hur många katter har de tillsammans?

Räkna: _____

Svar: _____

I ett dike så sitter det 3 grodor. Det kommer 2 grodor till och sätter sig i diket. Hur många grodor sitter det då i diket?

Räkna: _____

Svar: _____

Hasan har 1 krona. Han får 2 kronor till av sin bror. Hur mycket har Hasan då?

Räkna: _____

Svar: _____




Addera med Holger

Namn:

Utvärdering

Jag tycker att arbetet med addition 0 - 5 var

roligt ganska roligt mindre roligt inte alls roligt



Ringa in det alternativ som
passar dig!

Jag tycker att arbetet med addition 0 - 5 var

enkelt ganska enkelt ganska svårt svårt



Ringa in det alternativ som
passar dig!

Addera med Holger

Diplom

Mycket bra jobbat!

_____.

(elevens namn)

Du kan addera med Holger!

_____.

(lärarens namn)

Bra jobbat!
Holger och Fixx